

# 1-7-1995

## Θέμα: ΚΟΣΜΗΜΑ ΜΕΤΑΛΛΙΚΗΣ ΘΥΡΑΣ

### ΖΗΤΕΙΤΑΙ:

**A.** Να σχεδιαστούν με μαύρη σινική μελάνη και με τα κατάλληλα πάχη γραμμών τα παρακάτω:


1. Τα δύο σχέδια του υποδείγματος, σε μεγέθυνση σύμφωνα με τις αναγραφόμενες διαστάσεις που θα υπολογιστούν σε χιλιοστά. Όπου δεν αναγράφονται διαστάσεις στο υπόδειγμα αυτές θα υπολογιστούν κατ'εκτίμηση, κατά την κρίση των εξεταζομένων.
2. Ο τίτλος του θέματος «ΚΟΣΜΗΜΑ ΜΕΤΑΛΛΙΚΗΣ ΘΥΡΑΣ» και οι τίτλοι των δύο σχεδίων «ΟΨΗ» και «ΤΟΜΗ Α-Α».

**B.** Να σχεδιαστεί με μαύρη σινική μελάνη και η διαγράμμιση της τομής.

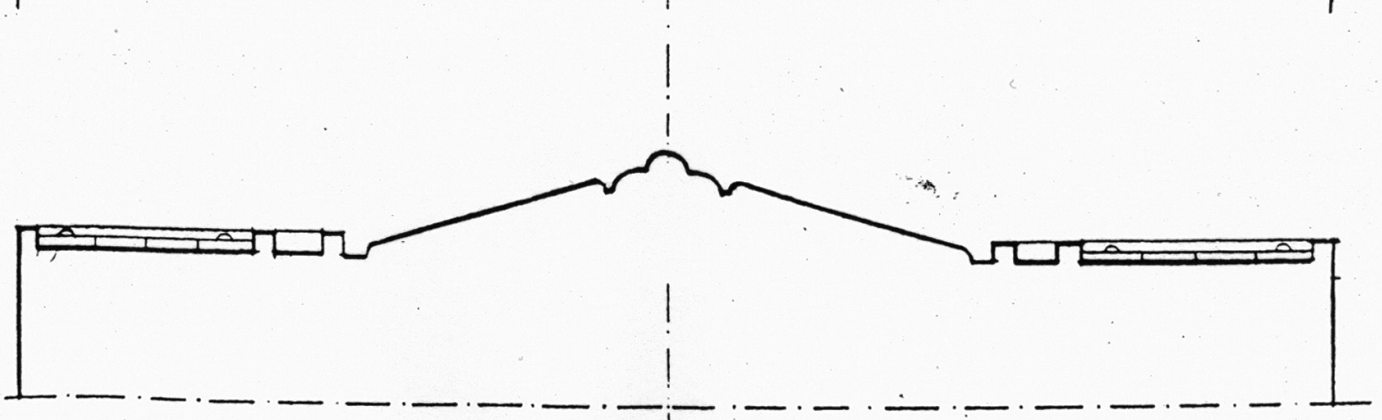
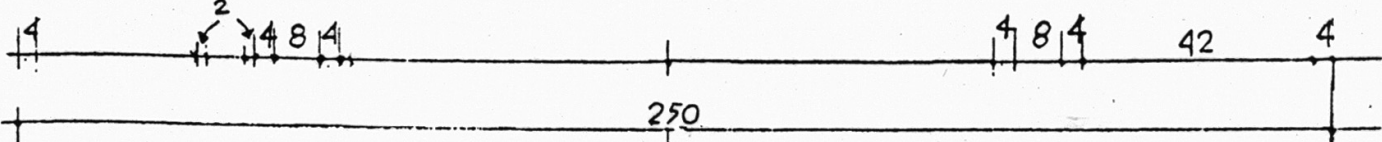
### Οδηγίες - Διευκρινήσεις

1. Η τοποθέτηση των δύο σχεδίων και των τίτλων στο χαρτί του υποδείγματος είναι ενδεικτική και δεν δεσμεύει τους υποψήφιους.
2. Ο τύπος των γραμμών και οι θέσεις των τίτλων που θα γραφτούν στο σχέδιο θα επιλεγούν από τους υποψήφιους. Η σχεδιάσή τους θα γίνει με ελεύθερο χέρι ή με τα επιτρεπόμενα όργανα σχεδίασης.
3. Στο τελικό σχέδιο δεν θα αναγραφούν οι διαστάσεις ούτε οι γραμμές διαστάσεων.
4. Όλες οι γωνίες στο σχέδιο της ΟΨΗΣ είναι ορθές, όπως είναι σχεδιασμένες στο υπόδειγμα.
5. Οι διακεκομμένες γραμμές της όψης είναι βοηθητικές και δεν θα σχεδιαστούν στο τελικό σχέδιο.

ΚΟΣΜΗΜΑ ΜΕΤΑΛΛΙΚΗΣ ΘΥΡΑΣ



ΟΨΗ



ΤΟΜΗ ΑΑ